



Code :

Thème: GEOMETRIE DU PLAN

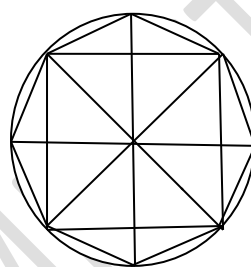
LEÇON 6 : CERCLES ET TRIANGLES

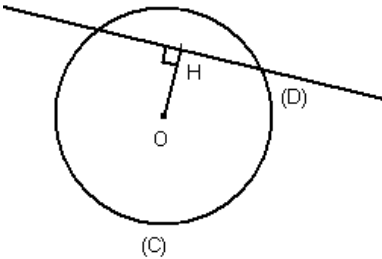
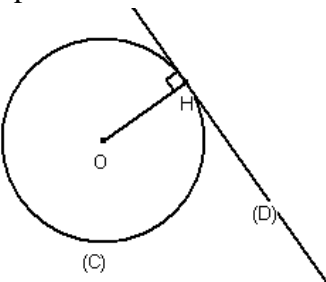
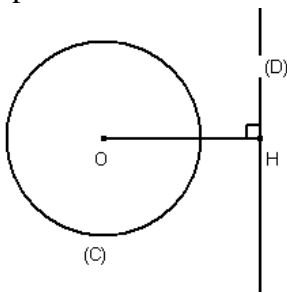
Durée : 8 heures

A-SITUATION D'APPRENTISSAGE

Après le tournoi inter-établissements, votre école a remporté le trophée. Les joueurs ont obtenu des médailles marquées par des figures géométriques comme l'indique la figure ci-contre.

Des élèves de 4<sup>ème</sup> veulent reproduire ces figures géométriques observées. Ainsi, ils décident de faire appel à leurs connaissances en géométrie pour distinguer les figures et les reproduire.

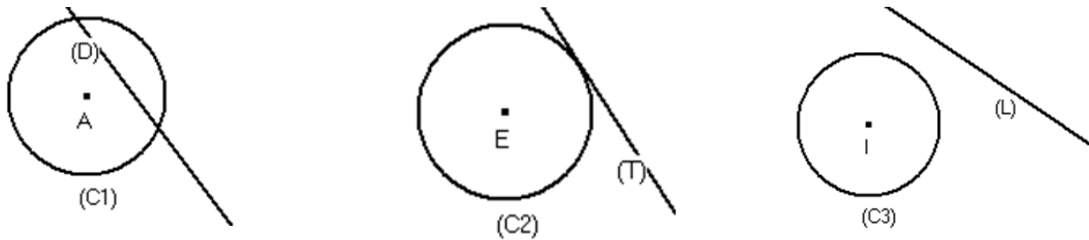
B-CONTENU DE LA LEÇON**I. Cercle et droite****1. Positions relatives d'une droite et d'un cercle****Propriétés**

(C) est un cercle de centre $O$ et de rayon $r$ ; (D) est une droite. $H$ est le point de (D) tel que $(OH) \perp (D)$ .		
Si $OH < r$ , alors (C) et (D) ont deux points communs.  (C) et (D) sont sécants.	Si $OH = r$ , alors (C) et (D) ont un point commun.  (C) et (D) sont tangents.	Si $OH > r$ , alors (C) et (D) n'ont aucun point commun.  (C) et (D) sont disjointes.
Si (C) et (D) ont deux points communs, alors $OH < r$ .	Si (C) et (D) ont un point commun, alors $OH = r$ .	Si (C) et (D) n'ont aucun point commun, alors $OH > r$ .

## Exercice de fixation

### Exercice 1

Observe les figures suivantes.



Recopie et complète par le mot qui convient : tangents, disjoints ou sécants.

- La droite (D) et le cercle (C1) sont .....
- La droite (T) et le cercle (C2) sont .....
- La droite (L) et le cercle (C3) sont .....

### Corrigé

- La droite (D) et le cercle (C1) sont sécants.
- La droite (T) et le cercle (C2) sont tangents.
- La droite (L) et le cercle (C3) sont disjoints

### Exercice 2

L'unité de longueur est le centimètre.

(C) est le cercle de centre I et de rayon 3 et (L) une droite. K est un point de la droite (L) tel que :  $IK=5$ .

Détermine la position relative de (C) et de (L).

### Corrigé

$IK > 3$ , donc (C) et (L) sont disjoints.

## 2. Tangente à un cercle

### a- Définition

(C) est un cercle de centre O et H est un point de (C).

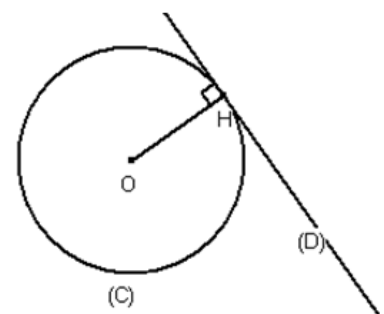
On appelle tangente en H au cercle (C), la droite passant par H et perpendiculaire au support du rayon [OH].

H est un point de (C).

[OH] est un rayon du cercle.

(D) est perpendiculaire à (OH) en H.

(D) est la tangente à (C) en H.



## b- Construction des tangentes à un cercle passant par un point extérieur au cercle

### Méthode

On donne un cercle  $(C)$  de centre  $O$  et un point  $A$  extérieur à ce cercle.

Pour construire les tangentes à  $(C)$  passant par le point  $A$ , on procède de la manière suivante :

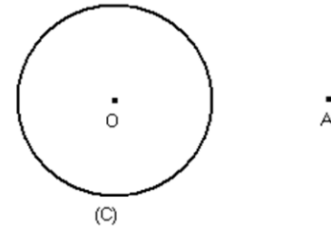
- on place le point  $I$  milieu de  $[AO]$  ;
- on trace le cercle  $(C')$  de centre  $I$  et de rayon  $IA$  ;
- on place  $T$  et  $T'$ , points d'intersection des cercles  $(C)$  et  $(C')$ .
- on trace les droites  $(AT)$  et  $(AT')$ .

Les droites  $(AT)$  et  $(AT')$  sont les tangentes au cercle  $(C)$  passant par  $A$ .

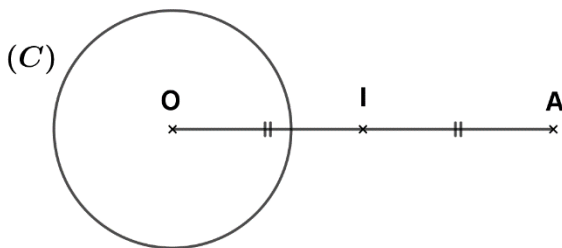
### Exercice de fixation

$(C)$  est un cercle de centre  $O$  et  $A$  est un point extérieur à  $(C)$ .

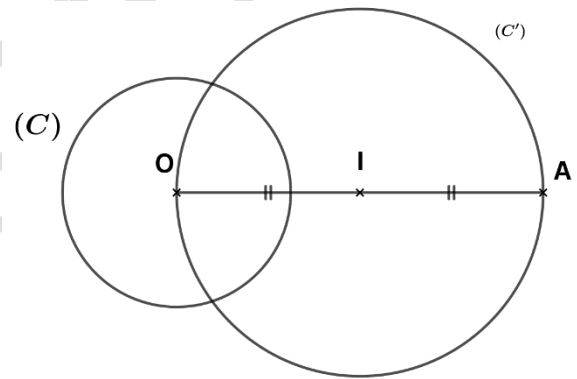
Construis les tangentes à  $(C)$  passant par  $A$ .



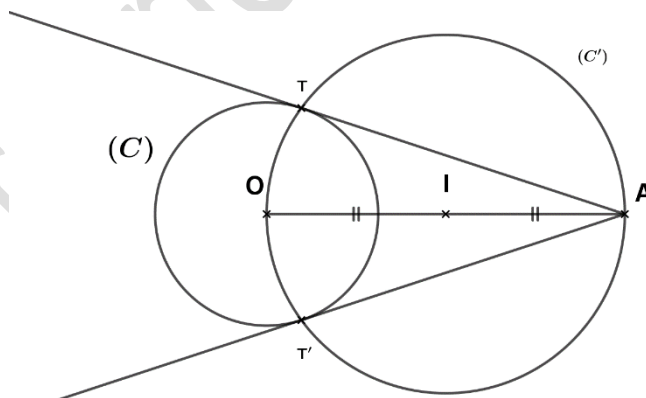
### Corrigé



Etape 1



Etape 2



Etape 3

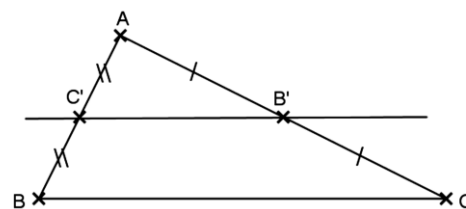
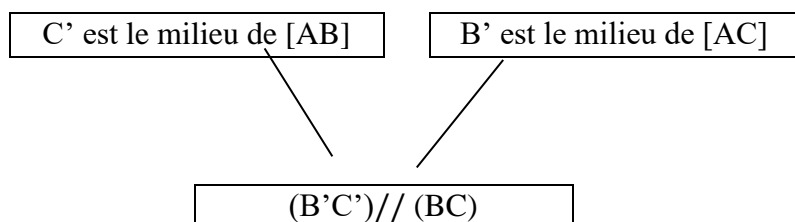
## II. Triangles et droites

### 1. Droite des milieux

#### Propriété

Dans un triangle, si une droite passe par les milieux de deux cotés, alors elle est parallèle au support du troisième côté.

ABC est un triangle

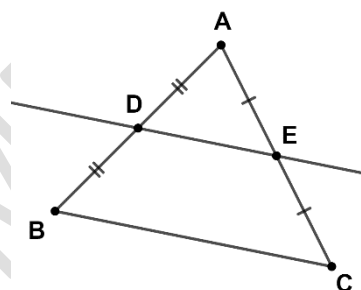


(BC) est appelée **droite des milieux**.

#### Exercice de fixation

Examine la figure ci-contre.

Justifie que les droites (DE) et (BC) sont parallèles.



#### Corrigé

ABC est un triangle. D est le milieu de [AB] et E le milieu de [AC].

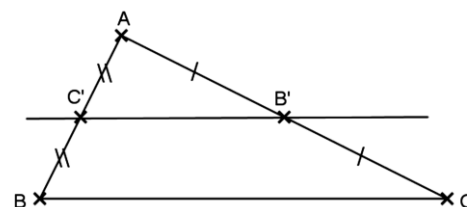
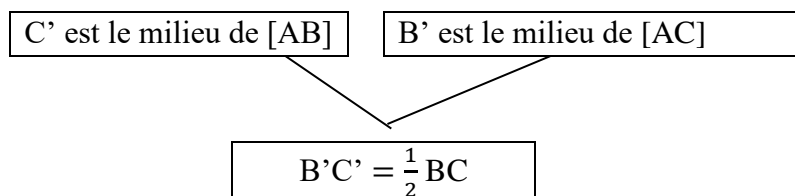
Donc, la droite (DE) est parallèle à (BC), car dans un triangle, si une droite passe par les milieux de deux cotés, alors elle est parallèle au support du troisième côté.

### 2-Segment joignant les milieux de deux côtés

#### Propriété

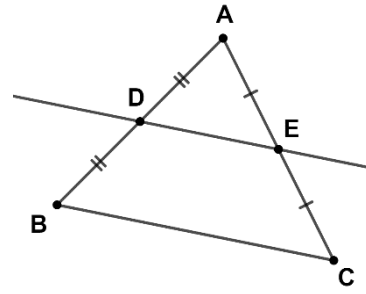
Dans un triangle, la longueur du segment qui joint les milieux de deux côtés est égale à la moitié de la longueur du troisième côté.

ABC est un triangle



**Exercice de fixation**

Sur la figure ci-contre qui n'est pas en vraies grandeurs,  $ABC$  est un triangle tel que  $BC = 15 \text{ cm}$ .  
 Calcule  $DE$ .



**Corrigé**

$ABC$  est un triangle.  $D$  est le milieu de  $[AB]$  et  $E$  le milieu de  $[AC]$ .

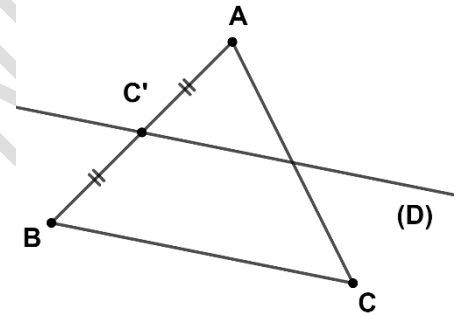
Donc :  $DE = \frac{1}{2}BC$ , car dans un triangle, la longueur du segment qui joint les milieux de deux côtés est égale à la moitié de la longueur du troisième côté.

$$DE = \frac{1}{2} \times 15 = 7,5 \text{ cm}.$$

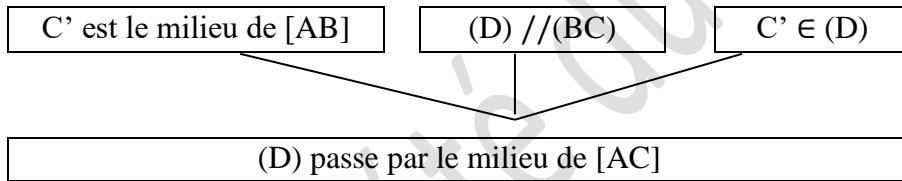
**3- Droite passant par le milieu d'un côté**

**Propriété**

Dans un triangle, si une droite passe par le milieu d'un côté et est parallèle au support d'un autre côté, alors elle passe par le milieu du troisième côté.

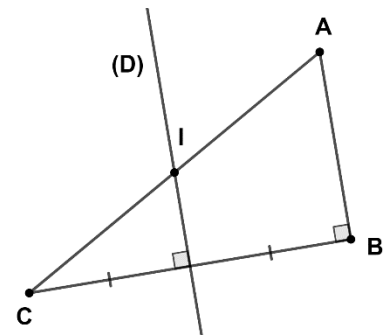


$ABC$  est un triangle.



**Exercice de fixation**

Sur la figure ci-contre,  $ABC$  est un triangle rectangle en  $B$ .  
 La médiatrice  $(D)$  de  $[BC]$  coupe l'hypoténuse en un point  $I$ .  
 Justifie que le point  $I$  est le milieu du segment  $[AC]$ .



**Corrigé**

- $ABC$  est un triangle rectangle en  $B$ , donc  $(AB) \perp (BC)$ .  
 $(D)$  est la médiatrice du segment  $[BC]$ , donc  $(D) \perp (BC)$ .

Les droites  $(AB)$  et  $(D)$  sont perpendiculaires à une même droite  $(BC)$ , donc elles sont parallèles.

- Dans le triangle  $ABC$ , la droite  $(D)$  passe par le milieu de  $[BC]$  et est parallèle à  $(AB)$ .  
 Donc, la droite  $(D)$  passe par le milieu de  $[AC]$ .  
 Or  $(D)$  passe par le point  $I$  qui appartient au segment  $[AC]$ .  
 Par conséquent, le point  $I$  est le milieu de  $[AC]$ .

### III. Droites particulières et points remarquables dans un triangle

#### 1- Hauteurs et orthocentre

##### a- Propriété

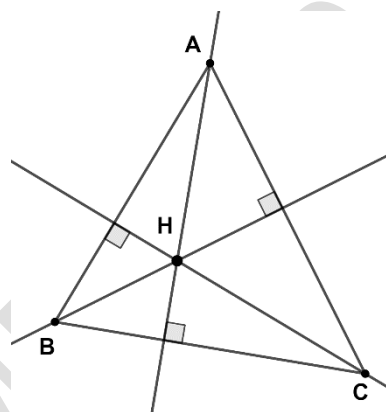
Les trois hauteurs d'un triangle sont concourantes.

##### b-Définition

Le point de concours des hauteurs d'un triangle est appelé orthocentre.

##### Exemple

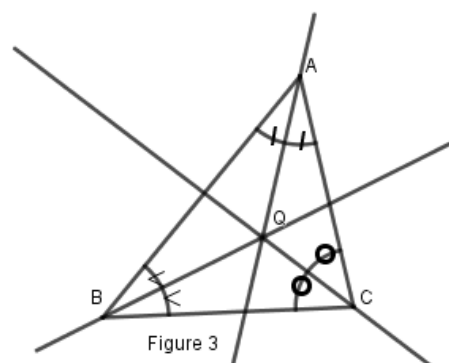
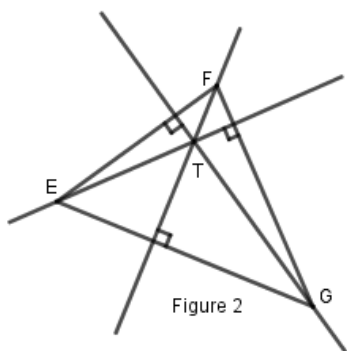
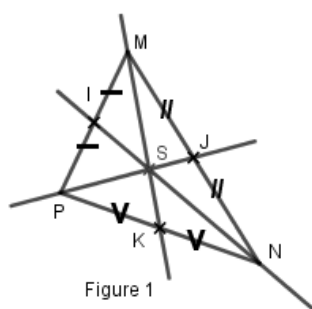
Le point H est l'orthocentre du triangle ABC.



#### Exercice de fixation

Observe les figures ci-dessous.

Lequel des points S, T et Q est l'orthocentre du triangle ? Justifie ta réponse.



#### Corrigé

Le point S n'est pas le point de concours des hauteurs du triangle MNP.

Le point Q n'est pas le point de concours des hauteurs du triangle ABC.

Le point T est le point de concours des hauteurs du triangle EFG, donc il est l'orthocentre du triangle EFG.

## 2- Médiannes et centre de gravité

### a- Propriété

Les trois médianes d'un triangle sont concourantes.

### b- Définition

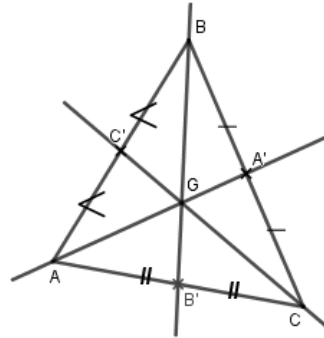
Le point de concours des médianes d'un triangle est appelé **centre de gravité** du triangle.

#### Exemple

Les droites  $(AA')$ ,  $(BB')$  et  $(CC')$  sont les médianes du triangle ABC .

G est le centre de gravité du triangle ABC.

On a :  $AG = \frac{2}{3}AA'$ ;  $BG = \frac{2}{3}BB'$  et  $CG = \frac{2}{3}CC'$ .



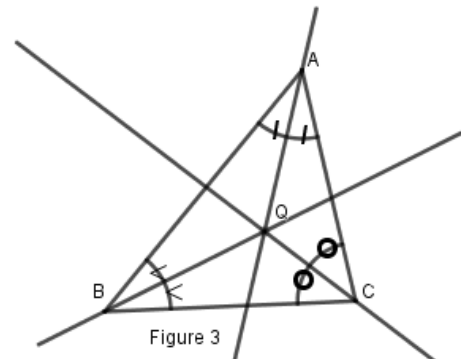
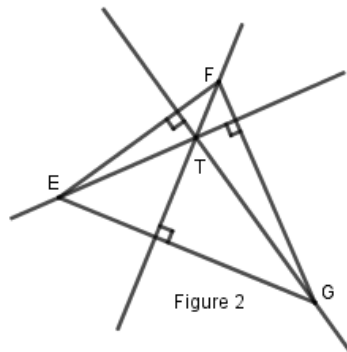
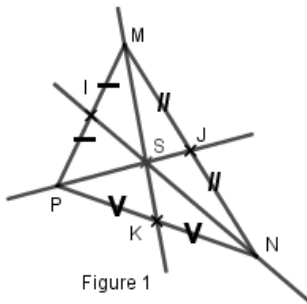
#### Remarque

Le centre de gravité d'un triangle est situé aux  $\frac{2}{3}$  de chaque médiane à partir du sommet.

#### Exercice de fixation

Observe les figures ci-dessous.

Réponds par Vrai ou par Faux à chacune des affirmations suivantes :



Affirmation	Réponse
S est le centre de gravité du triangle MNP	
T est le centre de gravité du triangle EFG	
Q est le centre de gravité du triangle ABC	

## Corrigé

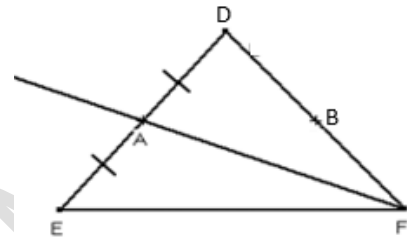
Affirmation	Réponse
S est le centre de gravité du triangle MNP	Vrai
T est le centre de gravité du triangle EFG	Faux
Q est le centre de gravité du triangle ABC	Faux

### Remarque

Chaque médiane d'un triangle le partage en deux triangles de même aire.

La droite (AF) est une médiane du triangle EDF.

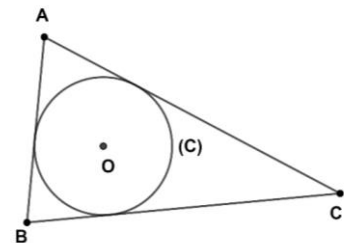
$$\text{Aire AEF} = \text{Aire ADF}$$



### 3-Bissectrices et centre du cercle inscrit

#### a-Définition

On appelle cercle inscrit dans un triangle, le cercle intérieur à ce triangle et tangent aux supports de ses côtés.



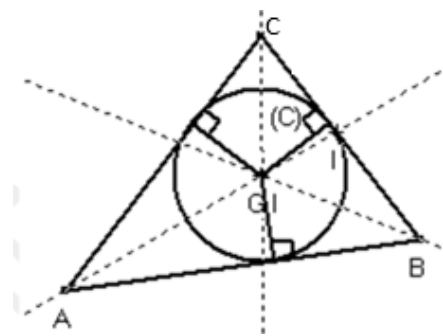
#### b-Propriété

Les trois bissectrices des angles d'un triangle sont concourantes. Leur point de concours est le centre du cercle inscrit dans ce triangle.

#### Exemple

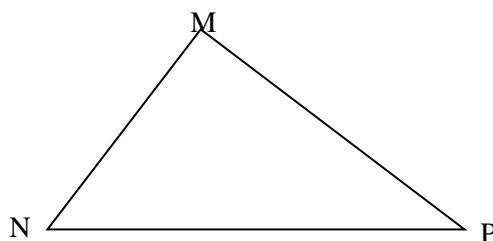
Les droites (AI), (CI) et (BI) sont les bissectrices du triangle ABC.

I est le centre du cercle inscrit dans le triangle ABC.



#### Exercice de fixation

Trace les trois bissectrices du triangle MNP, puis trace le cercle inscrit dans ce triangle.

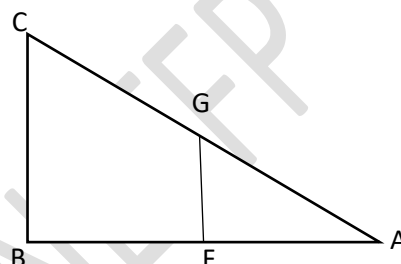




## C-SITUATION D'ÉVALUATION

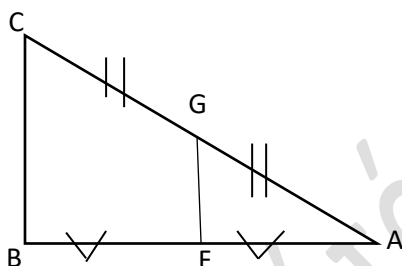
Un géomètre s'est servi d'un schéma réalisé après divers relevés avec son appareil pour déterminer la hauteur d'un immeuble. À la demande de son chef de service qui veut vérifier l'exactitude de ses calculs, il reproduit ce schéma comme l'indique la figure ci-dessous. Des codages manquants rendent difficile l'exploitation de la figure.

- 1- Code la figure pour qu'on puisse affirmer avec une propriété relative à la droite des milieux que les supports des segments  $[GF]$  et  $[BC]$  sont parallèles.
- 2- Détermine la hauteur  $BC$  de cet immeuble sur la base de ce codage sachant que  $GF = 24$  m.



### Corrigé

1.



2. D'après la propriété qui dit que : Dans un triangle, la longueur du segment qui joint les milieux de deux cotés est égale à la moitié de la longueur du troisième coté.

$$GF = \frac{1}{2}BC, \text{ d'où } BC = 2GF.$$

Donc :  $BC = 2 \times 24 = 48$ .

La hauteur de cet immeuble est de 48 m.

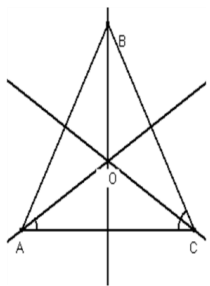
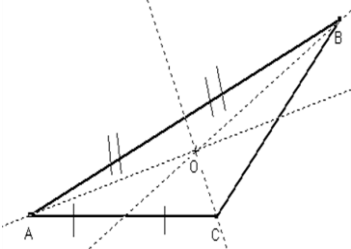
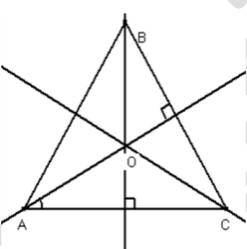
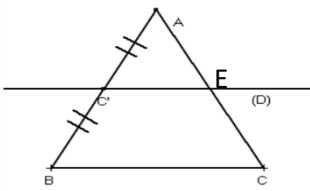
## D-EXERCICES

### D- 1 Exercice de fixation

#### Exercice 1

Pour chaque ligne du tableau, une seule affirmation est vraie.

Ecris le numéro de la figure et la lettre qui correspond à l'affirmation vraie.

N°	Figures	Affirmations		
		A	B	C
1	 <p>Les droites (AO), (BO) et (CO) sont les bissectrices respectives des angles <math>\hat{A}</math>, <math>\hat{B}</math> et <math>\hat{C}</math></p>	O est le centre du cercle inscrit dans le triangle ABC	O est le centre de gravité du Triangle ABC	O est l'orthocentre du triangle ABC
2		O est le centre du Cercle inscrit Au triangle ABC	O est le centre de Gravité du Triangle ABC	O est l'orthocentre du triangle ABC
3		O est le centre du Cercle inscrit Au triangle ABC	O est le centre de Gravité du Triangle ABC	O est l'orthocentre du triangle ABC
4	 <p>(C'E) //(BC)</p>	$C'E = BC$	$C'E = \frac{1}{2} BC$	$BC = \frac{1}{2} C'E$

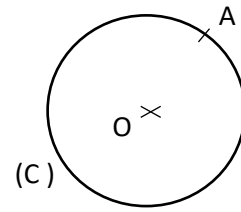
#### Corrigé

1- A ; 2- B ; 3- C ; 4- B

### Exercice 2

(C) est un cercle de centre O et A est un point de (C).

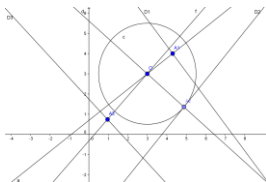
Construis la tangente (T) à (C) au point A.



### Exercice 3

- 1) Construis le cercle (C) de centre O et de rayon 2,5 cm.
  - 2) Dans chacun des cas ci-dessous;
    - place un point A ;
    - trace la droite (D) passant par A et perpendiculaire à (OA) ;
    - indique la position relative de (C) et de (D).
- a)  $OA = 1,5$  cm.
  - b)  $OA = 2,5$  cm.
  - c)  $OA = 3,5$  cm.

### Corrigé



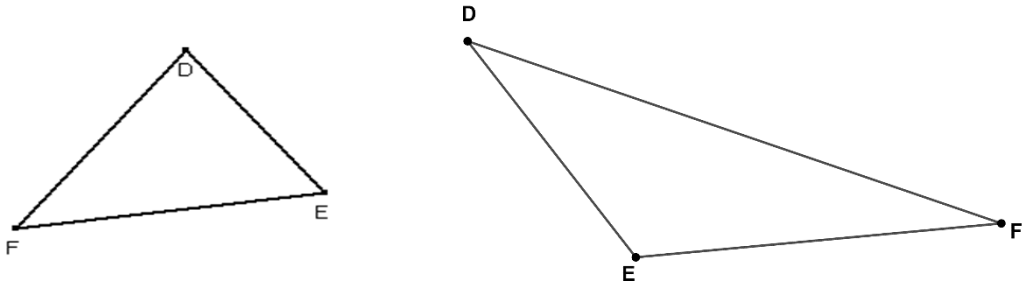
- a) Pour  $OA_1 = 1,5$  cm, (C) et (D<sub>1</sub>) sont sécants.

- b) Pour  $OA_2 = 2,5$  cm, ( C ) et  $(D_2)$  sont tangents.  
 c) Pour  $OA_3 = 3,5$  cm, ( C ) et  $(D_3)$  sont disjoints.

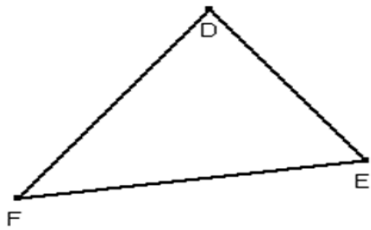
## D-2 Exercices de renforcement

### Exercice 4

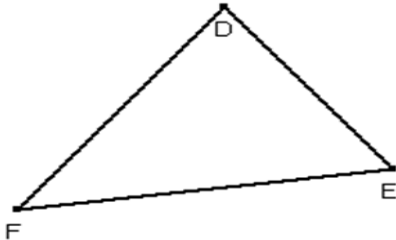
- 1) Construis l'orthocentre O du triangle DFE.



- 2) Construis le centre de gravité G du triangle DFE.



- 3) Construis le cercle ( C ) inscrit dans le triangle DFE.



### Exercice 5

L'unité de longueur est le centimètre.

ABC est un triangle tel que  $AB = 6$  ;  $AC = 7$  et  $BC = 10$ .

Les points I et J sont les milieux respectifs des segments [AB] et [AC].

- 1) Justifie que  $(IJ) \parallel (BC)$ .

- 2) Déduis-en que  $IJ = \frac{1}{2} BC$ .

- 3) Calcule IJ.

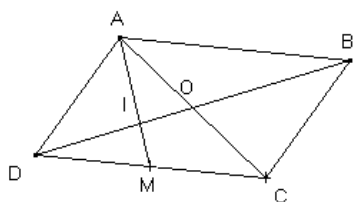
## Corrigé

- 1) ABC est un triangle et I milieu de [AB] et J milieu de [AC]. D'après la propriété de la droite des milieux,  
(IJ)//(BC).
- 2) (IJ)//(BC), D'après la propriété sur le segment joignant les milieux de deux côtés,
- 3)  $IJ = \frac{1}{2}BC$ .
- 4)  $IJ = \frac{1}{2}BC$  donc  $IJ = \frac{1}{2} \times 10 = 5$ .

### Exercice 6

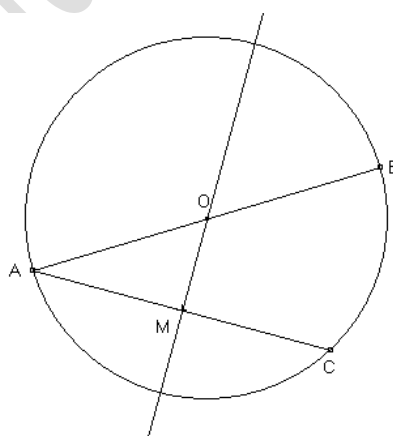
Soit un parallélogramme ABCD de centre O et M le milieu de [DC]. La droite (AM) coupe (BD) en I.

Justifie que  $DI = \frac{1}{3}DB$ .



### Exercice 7

Soit un cercle de centre O et de diamètre [AB]. Soit C un point du cercle et M le milieu de [AC]. Justifie que (OM) est perpendiculaire à la droite (AC).



## D-3- Exercices d'approfondissement

### Exercice 8

Soit ABC un triangle. Soit I le milieu de [AB] et J le milieu de [AC].

- 1) Fais une figure.
- 2) a- Démontre que (IJ) et (BC) sont parallèles.  
b- Justifie que  $IJ = \frac{1}{2}BC$ .
- 3) Soit M un point intérieur au triangle AIJ ; K le symétrique de M par rapport à I ; L le symétrique de M par rapport à J.

- a- Démontre que (IJ) et (KL) sont parallèles.  
b- Justifie que  $IJ = \frac{1}{2} KL$ .  
4) Justifie que  $BC = KL$ .

### **Exercice 9**

Soit ABC un triangle rectangle en A. La médiatrice de [AB] coupe [AB] au point E et [BC] au point F.

K est le milieu de [AC].

- 1) Démontre que (EF) et (AC) sont parallèles.
- 2) Démontre que (BC) et (KE) sont parallèles.

### **Exercice 10**

ABC est un triangle. A' est le milieu de [BC]. La droite passant par A' et parallèle à la droite (AB) coupe la droite (CA) au point P. La droite passant par le point P et parallèle à (BC) coupe la droite (AB) en Q.

- 1) Fais une figure.
- 2) Justifie que P est le milieu [AC].
- 3) Justifie que  $AB = 2 BQ$ .